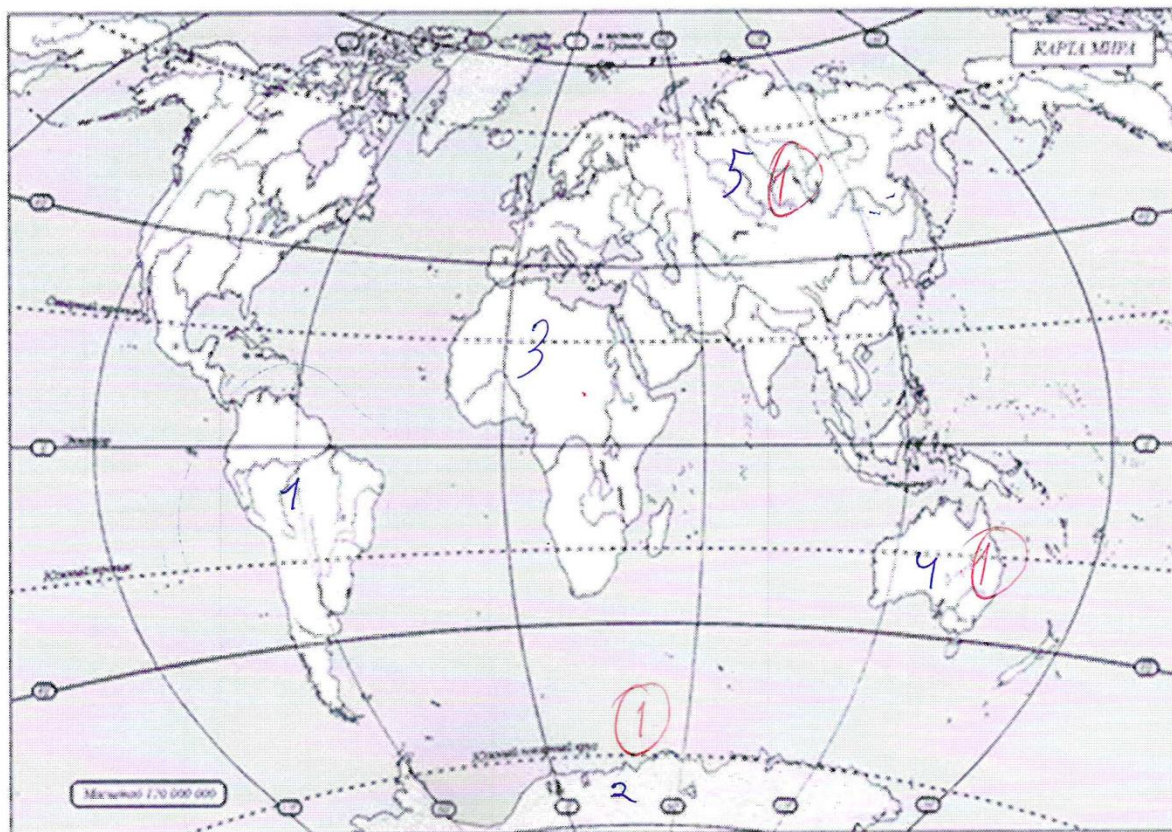


Всероссийская олимпиада школьников 2024-2025 учебный год  
 Школьный этап. География, 5 класс,  
 Время выполнения 45 мин. Максимальное кол-во баллов – 20  
 БЛАНК ОТВЕТОВ 5-7

№ задания	Ответ	Кол-во баллов	№ задания	Ответ	Кол-во баллов
1	А Термометр	1	9	Утро	1
2	Погода.	1	10	3	—
3	Земля.	—	11	Енисей	1
4	Смена дня и ночи	1	12	Тайга	1
5	ПЛАМ мест. время	1	13	Линия	1
6	Вост. местность	—	14	Полночь	—
7	Защита природы	—	15	21 июня	1
8	Фингер	—			
Всего баллов					

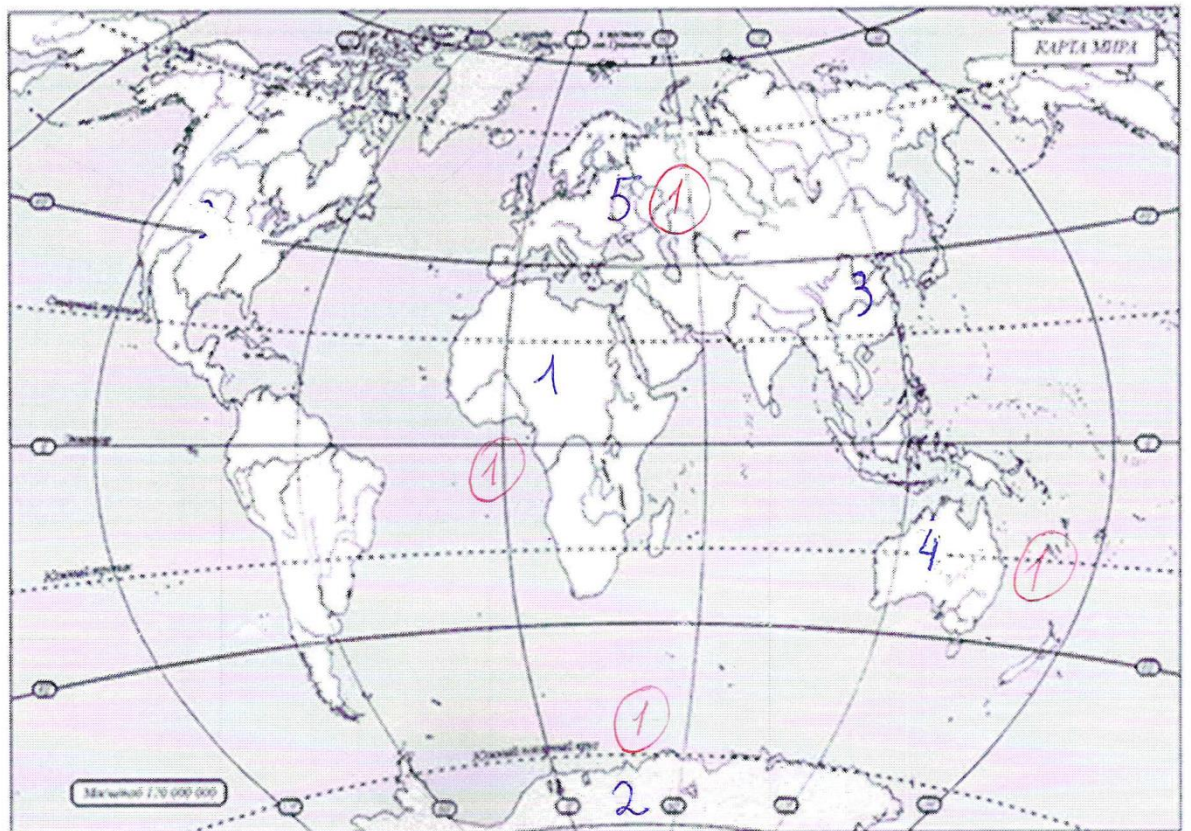
Практический тур



Всероссийская олимпиада школьников 2024-2025 учебный год  
 Школьный этап. География, 5 класс,  
 Время выполнения 45 мин. Максимальное кол-во баллов – 20  
 БЛАНК ОТВЕТОВ 5-9

№ задания	Ответ	Кол-во баллов	№ задания	Ответ	Кол-во баллов
1	A	1	9	Б	1
2	шторм		10	Б	1
3	B		11	Г	1
4	A	1	12	B	1
5	B		13	A	1
6	<del>1</del> 1 метр		14	B	1
7	A B	1	15	B	1
8	A	1			
Всего баллов	11				

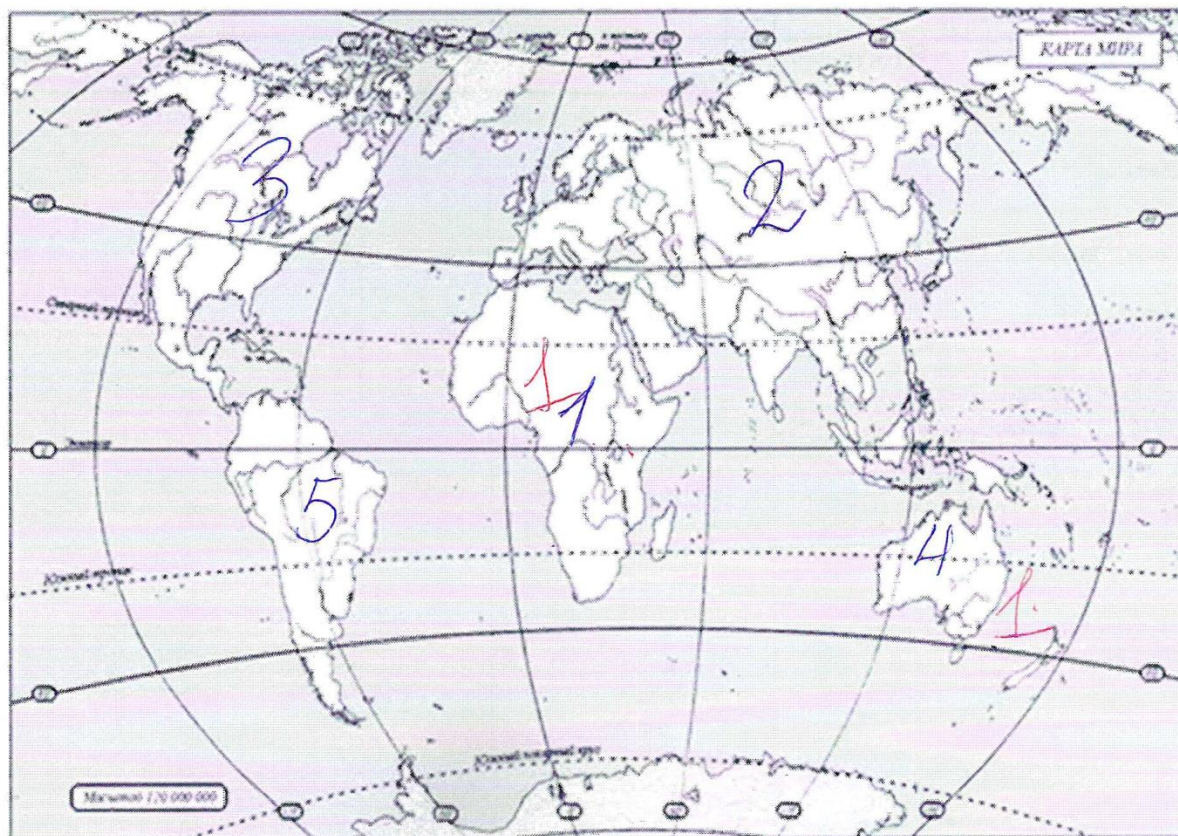
Практический тур



Всероссийская олимпиада школьников 2024-2025 учебный год  
 Школьный этап. География, 5 класс,  
 Время выполнения 45 мин. Максимальное кол-во баллов – 20  
 БЛАНК ОТВЕТОВ 5-4

№ задания	Ответ	Кол-во баллов	№ задания	Ответ	Кол-во баллов
1	<del>Г</del>		9	Б	1
2			10	Б	1
3	Б	1	11	Г	1
4	А	1	12	В	1
5	<del>В</del>		13	А	1
6			14	В	1
7	В	1	15		
8	<del>Г</del>				
Всего баллов					

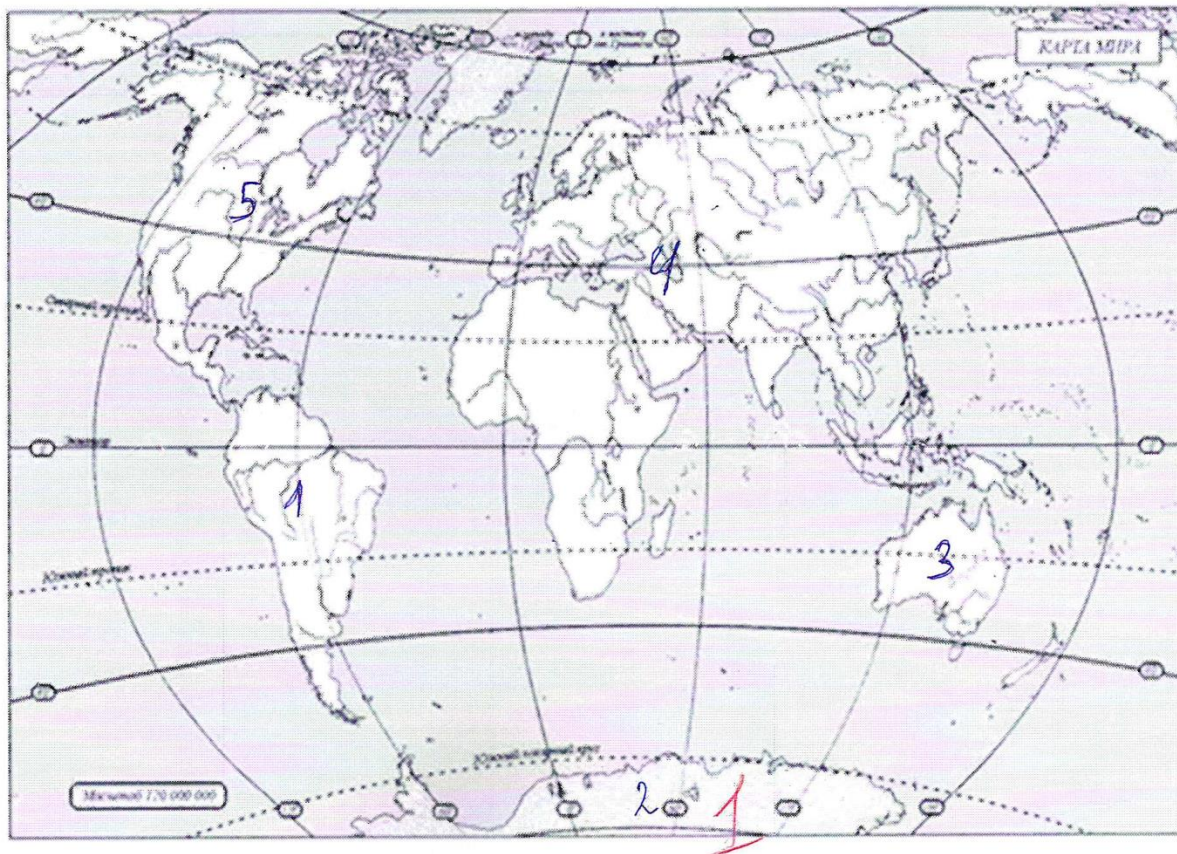
Практический тур



Всероссийская олимпиада школьников 2024-2025 учебный год  
Школьный этап. География, 5 класс,  
Время выполнения 45 мин. Максимальное кол-во баллов – 20  
БЛАНК ОТВЕТОВ **5-2**

№ задания	Ответ	Кол-во баллов	№ задания	Ответ	Кол-во баллов
1	<del>Термометр</del>	1	9	Урал	1
2	погода	1	10	1	—
3	Юпитер	1	11	Енисей	1
4	Смена часовых поясов	—	12	Стены	—
5	План местности изображает <del>версус</del>	—	13	А, Лейпциг	1
6	Компьютер	—	14	Заватар	1
7	За природой	—	15	21 июня	1
8	Ветреная мельница	1			
Всего баллов					

Практический тур





Всероссийская олимпиада школьников 2024-2025 учебный год  
Школьный этап. География, 6 классы  
Время выполнения 45 мин. Максимальное количество баллов – 31

**БЛАНК ОТВЕТОВ** 6-2  
**Тестовый тур**

№ задания	Ответ	Кол-во баллов	№ задания	Ответ	Кол-во баллов
1	Б	1	9	Б	1
2	Г	1	10	А	
3	Г	1	11	—	
4	В		12	Г	1
5	—		13	Б	1
6	Б		14	В	
7	В		15	А	
8	А	1			
Всего баллов					7

**Практический тур**

**Задание 1. Максимальное количество баллов – 10.**

1) Подпишите условные обозначения плана местности, обозначенные цифрами

Цифра	Название	
1	деревянный мост	1
2	озеро	—
3		—
4	мельница	1
5	заправка	—
6	лес	—

2) Что производит завод, изображенный на плане? сахар 1.

3) Какой тип дороги соединяет железнодорожную станцию с домиком лесника?

4) Какой тип моста соединяет автомобильную дорогу? узкая

мелесница 2.

**Задание 2. Максимальное количество баллов – 6 баллов.**

1. Самый пустынный материк (без учета снежных пустынь Антарктиды).

Африка  
2. Материк с самой большой численностью населения.

Евразия  
3. Материк, не имеющий коренного населения.

Азия

4. Материк – колыбель человечества.
5. Материк, где расположен самый высокий водопад в мире.
6. Материк, где расположен самый большой в мире речной каньон.

№	Материк
1	Африка
2	Евразия
3	Азия
4	—
5	—
6	Европа

1

Всероссийская олимпиада школьников 2024-2025 учебный год  
Школьный этап. География, 6 классы  
Время выполнения 45 мин. Максимальное количество баллов – 31

**БЛАНК ОТВЕТОВ** 6-3  
**Тестовый тур**

№ задания	Ответ	Кол-во баллов	№ задания	Ответ	Кол-во баллов
1	Б.	1	9	Б.	1
2	Г.	1	10	В.	1
3			11	Северо-Ледовитый	1
4	А.	1	12	Г.	1
5	<del>В.</del>		13	<del>В.</del>	
6	Б.		14	В.	
7			15	Б.	1
8					
Всего баллов					8

**Практический тур**

**Задание 1. Максимальное количество баллов – 10.**

1) Подпишите условные обозначения плана местности, обозначенные цифрами

Цифра	Название
1	мост
2	
3	поле
4	мельница + пекарня
5	луг
6	

2) Что производит завод, изображенный на плане? сахар

3) Какой тип дороги соединяет железнодорожную станцию с домиком лесника?

просёлочная дорога

4) Какой тип моста соединяет автомобильную дорогу?

**Задание 2. Максимальное количество баллов – 6 баллов.**

- Самый пустынный материк (без учета снежных пустынь Антарктиды).
- Материк с самой большой численностью населения.
- Материк, не имеющий коренного населения.



4. Материк – колыбель человечества.
5. Материк, где расположен самый высокий водопад в мире.
6. Материк, где расположен самый большой в мире речной каньон.

№	Материк
1	<del>Евразия</del>
2	Евразия 1
3	
4	
5	
6	

Всероссийская олимпиада школьников 2024-2025 учебный год  
Школьный этап. География, 6 классы  
Время выполнения 45 мин. Максимальное количество баллов – 31

**БЛАНК ОТВЕТОВ** 6-4  
**Тестовый тур**

№ задания	Ответ	Кол-во баллов	№ задания	Ответ	Кол-во баллов
1	Г		9	Г	
2	Г	1	10	В	1
3	Г	1	11	Северно-ледовый мост	1
4	В		12	Г	1
5	-		13	Б	1
6	А		14	Б	
7	-		15	Б	1
8	-				
Всего баллов					7

**Практический тур**

**Задание 1. Максимальное количество баллов – 10.**

1) Подпишите условные обозначения плана местности, обозначенные цифрами

Цифра	Название
1	-
2	-
3	сад
4	мельница 1
5	-
6	-

2) Что производит завод, изображенный на плане? \_\_\_\_\_

3) Какой тип дороги соединяет железнодорожную станцию с домиком лесника?

просёлочная автомобильная 1

4) Какой тип моста соединяет автомобильную дорогу?  
автомобильный

**Задание 2. Максимальное количество баллов – 6 баллов.**

- Самый пустынный материк (без учета снежных пустынь Антарктиды). Австралия
- Материк с самой большой численностью населения. Евразия
- Материк, не имеющий коренного населения. Антарктида

4. Материк – колыбель человечества. ~~Африка~~
5. Материк, где расположен самый высокий водопад в мире.
6. Материк, где расположен самый большой в мире речной каньон.

№	Материк
1	Австралия 1
2	Евразия 1
3	Антарктида 1
4	<del>Северная Америка</del>
5	Северная Америка
6	Южная Америка.

Африка 1

Всероссийская олимпиада школьников 2024-2025 учебный год  
Школьный этап. География, 7 класс  
Время выполнения 60 мин. Максимальное кол-во баллов –38  
**БЛАНК ОТВЕТОВ**

**Тестовый тур**

7-6

№ задания	Ответ	Кол-во баллов	№ задания	Ответ	Кол-во баллов
1	В	1	10	А	1
2	Г		11		
3	Г, А, Б, В		12	Б	1
4	Б		13		
5	В	1	14	Г	1
6	Б, А, В, Г		15	Г	1
7	Г		16	А	1
8			17		
9	Б		18		
Всего баллов					7

**Практический тур**

**Задание № 1.**

**Матрица ответов**

1	2	3	4	5	6	7	8	9	10
	В	А	Б	Г	Е	А	Ж	И	К

**Задание № 2.**

Вставьте недостающую информацию о географических приборах в соответствующую колонку. Максимальное количество баллов, которое можно набрать –10.

Прибор	Название	Для чего служит?
--------	----------	------------------

<p>1.</p> 	<p><i>Термометр</i></p>	<p>Для измерения давления</p>
<p>2.</p> 	<p>Курвиметр</p>	
<p>3.</p> 		<p>Прибор для наглядной демонстрации годового движения Земли вокруг Солнца и суточного вращения Земли вокруг своей оси.</p>
<p>4.</p> 	<p>Гигрометр психрометрический</p>	
<p>5.</p> 		<p>Прибор для измерения направления ветра.</p>
<p>6.</p> 	<p>Осадкомер</p>	<p><i>Прибор для измерения осадков.</i></p> <p><u>1</u></p>

<p>7.</p> 		<p>Прибор для измерения скорости ветра.</p>
<p>8.</p> 	<p>Сейсмограф</p>	
<p>9.</p> 	<p><i>Компас</i></p>	<p>Прибор, предназначенный для определения сторон горизонта и состоящий из намагниченной стрелки, всегда показывающей на север.</p>
<p>10.</p> 	<p>Лазерный дальномер</p>	<p><i>Прибор для измерения расстояния</i></p>

Всероссийская олимпиада школьников 2024-2025 учебный год  
Школьный этап. География, 7 класс  
Время выполнения 60 мин. Максимальное кол-во баллов –38  
**БЛАНК ОТВЕТОВ**

**Тестовый тур 7-5**

№ задания	Ответ	Кол-во баллов	№ задания	Ответ	Кол-во баллов
1	В	1	10	А	1
2	А	1	11	Г, В, А, Д	
3	Г, Б, В, А		12	Г	
4	А	1	13	1:500.000	
5	Б		14	А	
6	4. Физическая В 5. Р		15	А	
7	Г		16	А	1
8	1) <del>А</del> <del>Б</del> <del>В</del> <del>Г</del> 3) <del>А</del> 2) <del>А</del> 4) <del>А</del> <del>Б</del>		17	Г	
9	Р	1	18	В	
Всего баллов					6

**Практический тур**

**Задание № 1.**

**Матрица ответов**

1	2	3	4	5	6	7	8	9	10
<del>А</del>	В	А	Б	Г	Е	Д	Ж	И	<del>Б</del>

**Задание № 2.**

Вставьте недостающую информацию о географических приборах в соответствующую колонку. Максимальное количество баллов, которое можно набрать –10.

Прибор	Название	Для чего служит?

<p>1.</p> 	<p>Термометр</p> <p>—</p>	<p>Для измерения давления</p>
<p>2.</p> 	<p>Курвиметр</p> <p>—</p>	
<p>3.</p> 		<p>Прибор для наглядной демонстрации годового движения Земли вокруг Солнца и суточного вращения Земли вокруг своей оси.</p>
<p>4.</p> 	<p>Гигрометр психрометрический</p>	
<p>5.</p> 		<p>Прибор для измерения направления ветра.</p>
<p>6.</p> 	<p>Осадкомер</p>	<p>Прибор для измерения осадков.</p>

8



<p>7.</p> 		<p>Прибор для измерения скорости ветра.</p>
<p>8.</p> 	<p>Сейсмограф</p>	
<p>9.</p> 	<p>Компас ↑</p>	<p>Прибор, предназначенный для определения сторон горизонта и состоящий из намагниченной стрелки, всегда показывающей на север.</p>
<p>10.</p> 	<p>Лазерный дальномер</p>	<p>Измеряет дальности ↑</p>

Всероссийская олимпиада школьников 2024-2025 учебный год  
Школьный этап. География, 8 класс  
Время выполнения 60 мин. Максимальное кол-во баллов – 48

**БЛАНК ОТВЕТОВ**

Тестовый тур

8-3

№ задания	Ответ	Кол-во баллов	№ задания	Ответ	Кол-во баллов
1	<del>A</del> B	0	10	A	1
2	A	0	11	Гайкал	0
3	Б, Г, А	1	12	B	1
4	Б	1	13	Г, А.	0
5	Атлантический	1	14	Б	0
6	B	0	15	B, A, A.	0
7	Б	0	16	Г	1
8	В1, Е2, Г4	0	17	Б	0
9	Г1, В4, Б2, А3.	0	18	B	0
Всего					65

**Практический тур**

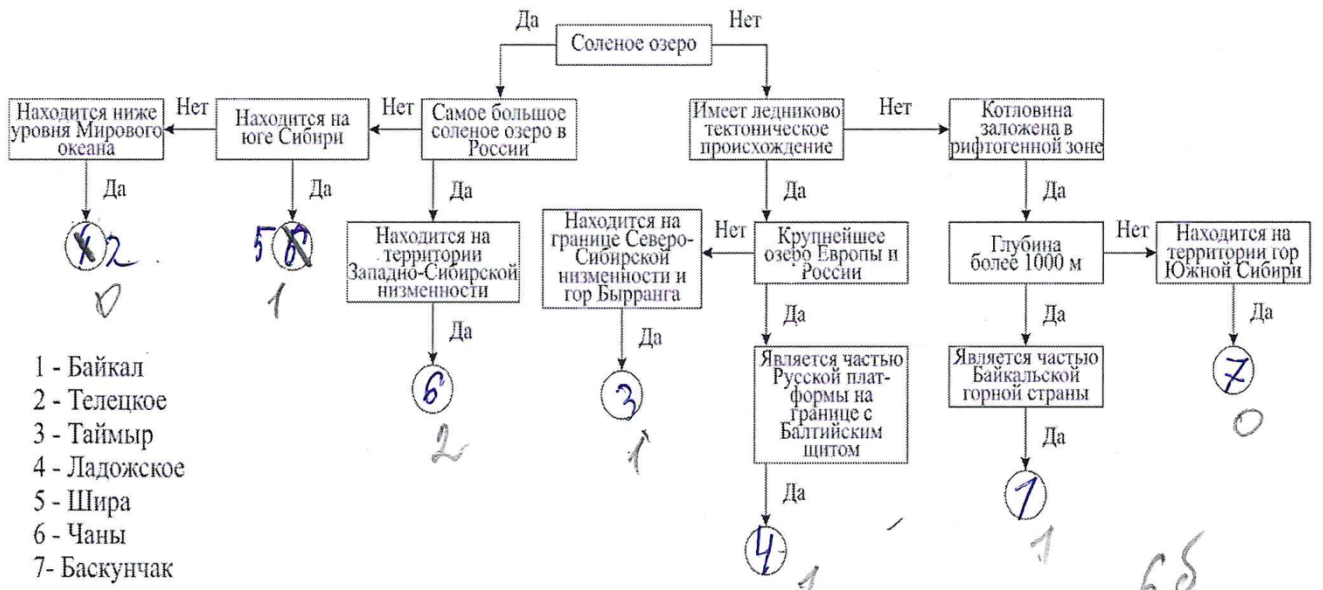
**Задание 1. Максимальное количество баллов -10**

t °C января	t °C июля	Годовая амплитуда температур	Количество осадков за год	Месяц с наибольшим количеством осадков	Определите минимальное количество осадков за год	Единица измерения количества осадков
-21°C	+15°C	36°C	500мм	Июль	70мм	мм.
1	1	3	1	1	1	1

**Задание 2.**

Впишите в кружки цифры, соответствующие названиям озёр.

**Максимальное количество баллов – 10**



**Задание 3. Максимальное количество баллов – 10**

Тип рельефа	Рельефообразующие процессы		Территория России с преобладающим типом рельефа
	Номер описания	Название процесса	
Эоловый рельеф	4	Дефляция	Карелия
Флювиальный рельеф	3	Абразия	Восточный саян
Мерзлотный рельеф	5	Экзарация	Южная часть терр. риф. Якутия
Прибрежный рельеф	1	Волная эрозия	Северное побережье Каспийского моря
Ледниковый рельеф	2	Атлантикаризм	Каспийское море

2,5.5.

Всероссийская олимпиада школьников 2024-2025 учебный год  
Школьный этап. География, 8 класс  
Время выполнения 60 мин. Максимальное кол-во баллов – 48

**БЛАНК ОТВЕТОВ**

Тестовый тур

8-9

№ задания	Ответ	Кол-во баллов	№ задания	Ответ	Кол-во баллов
1	Г, Д	0	10	г	1
2	г	0	11	Бразил	0
3	Б, Г	1	12	Б	0
4	Г	1	13	Б, Г	1
5	Б	0	14	г	1
6	Б	1	15	г, В	0
7	В	1	16	Г	1
8	2-3 5-6 8-1 2-4 8-3 2-2	1	17	Б	0
9			18	Г	0
Всего	2-2 5-3 8-4 2-4	1			10

**Практический тур**

**Задание 1. Максимальное количество баллов - 10**

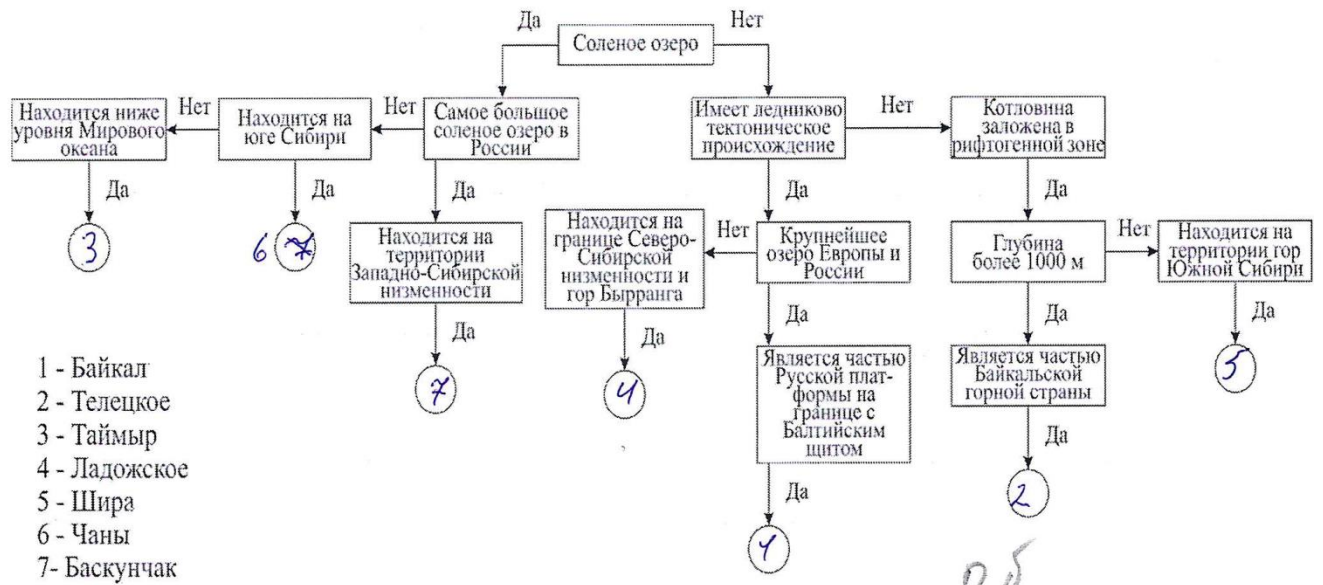
t °C января	t °C июля	Годовая амплитуда температур	Количество осадков за год	Месяц с наибольшим количеством осадков	Определите минимальное количество осадков за год	Единица измерения количества осадков
-25°C	5°C	20°C	500 мм 1	Июль 1	18 мм	мм миллиметров

**Задание 2.**

Впишите в кружки цифры, соответствующие названиям озёр.

**Максимальное количество баллов – 10**

35.



- 1 - Байкал
- 2 - Телецкое
- 3 - Таймыр
- 4 - Ладожское
- 5 - Шира
- 6 - Чаны
- 7 - Баскунчак

**Задание 3. Максимальное количество баллов – 10**

Тип рельефа	Рельефообразующие процессы		Территория России с преобладающим типом рельефа
	Номер описания	Название процесса	
Эоловый рельеф	3 0,5	абразия	Большая часть территории России 0,5
Флювиальный рельеф	4 0,5	ледниковый	0,5
Мерзлотный рельеф	2	эрозия	Восточный склон 0
Прибрежный рельеф	1 0,5	ветровая эрозия	Каспийское море Балтийское море 0
Ледниковый рельеф	5	термокарст	Восточный склон Балтийского моря 0,5

1,5

Всероссийская олимпиада школьников 2024-2025 учебный год  
Школьный этап. География, 8 класс  
Время выполнения 60 мин. Максимальное кол-во баллов – 48

**БЛАНК ОТВЕТОВ**

Тестовый тур *8-2*

№ задания	Ответ	Кол-во баллов	№ задания	Ответ	Кол-во баллов
1	<i>g</i>	<i>0</i>	10	<i>a</i>	<i>1</i>
2	<i>2</i>	<i>0</i>	11	<i>Байкал</i>	<i>0</i>
3	<i>2</i>	<i>0</i>	12	<i>б</i>	<i>1</i>
4	<i>д</i>	<i>1</i>	13	<i>A</i>	<i>0</i>
5		<i>0</i>	14	<i>A</i>	<i>1</i>
6	<i>д</i>	<i>1</i>	15	<i>б; з; г</i>	<i>0</i>
7	<i>д; б</i>	<i>1</i>	16	<i>2</i>	<i>1</i>
8	<i>A-3; Б-6; B-2; 2-4; 4-5</i>	<i>0</i>	17	<i>б</i>	<i>0</i>
9	<i>A-2; Б-1; в-4; 2-3</i>	<i>0</i>	18	<i>A</i>	<i>0</i>
Всего					<i>7</i>

**Практический тур**

**Задание 1. Максимальное количество баллов - 10**

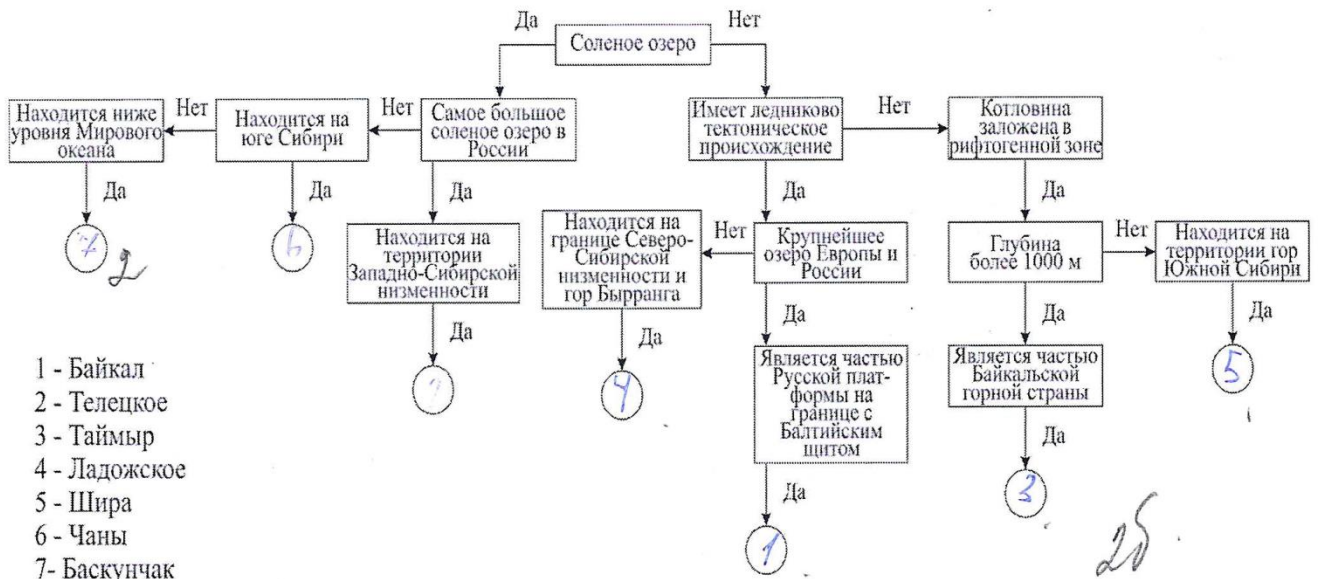
t °C января	t °C июля	Годовая амплитуда температур	Количество осадков за год	Месяц с наибольшим количеством осадков	Определите минимальное количество осадков за год	Единица измерения количества осадков
<i>-21°</i>	<i>+16°</i>	<i>-4°</i>	<i>500 мм</i>	<i>июль</i>	<i>16 мм</i>	<i>мм</i>
<i>1</i>	<i>1</i>	<i>0</i>	<i>1</i>	<i>1</i>	<i>0</i>	<i>1</i>

**Задание 2.**

Впишите в кружки цифры, соответствующие названиям озёр.

**Максимальное количество баллов – 10**

*55*



**Задание 3. Максимальное количество баллов – 10**

Тип рельефа	Рельефообразующие процессы		Территория России с преобладающим типом рельефа
	Номер описания	Название процесса	
Эоловый рельеф			
Флювиальный рельеф			
Мерзлотный рельеф			
Прибрежный рельеф			
Ледниковый рельеф			

05

Всероссийская олимпиада школьников 2024-25 учебный год  
Школьный этап. География, 9 класс,  
Время выполнения 90 мин. Максимальное кол-во баллов – 60

**БЛАНК ОТВЕТОВ**

9-10

№ задания	Ответ	Кол-во баллов	№ задания	Ответ	Кол-во баллов
1	Б	1	11	АГ	0
2	А	0	12	А	1
3	В	0	13	Г	1
4	Б	1	14	А	1
5	А	0	15	Г	0
6	В	1	16	АБГ	0
7	В	0	17	В	1
8	А-5 В-1 D-3 Б-6 Г-4 Е-2	0	18	Г	0
9	ладыжское	1	19	Б	1
10	В	1	20	Г	1
<b>ИТОГО</b>		<b>118</b>			

**Тестовый тур**

**Практический тур**

**Задание 1.**

Ответы:

- 1) 5 25
- 2) 1500 25
- 3) 1954 25

Максимальное число баллов за задание - 6

**Задание 2.**

Ответы:

- 1) 528
- 2) 8
- 3) 3 - Африка  
7 - Азия  
8 - Южная Америка  
14 - Австралия

Максимальное число баллов за задание - 8

**Задание 3.**

За каждый правильный ответ по 2 балла



1.	Плато Путорана	0
2.	Башенцево	0
3.		0
4.	Красноярское море	0
5.		0

Максимальное число баллов за задание – 10

Задание 4.

№	На каком материке обитают эти животные (0,5 балла)	Какое место занимает этот материк по площади среди материков (0,5 балла)	В каком полушарии находится это материк (по 0,5 за каждое)	В каких климатических поясах материк расположен (по 0,5 за каждый правильный ответ).	Всего баллов
1	Северная Америка 0,5	3 0,5	В верхнем <del>северном</del> Северном 0,5	тропички 0,5	2,5
2	Африка	2	нижнем южном		0
3	Евразия 0,5	1 0,5	север южный 0,5		1,5

Максимальное число баллов за задание – 16

Всероссийская олимпиада школьников 2024-25 учебный год  
Школьный этап. География, 9 класс,  
Время выполнения 90 мин. Максимальное кол-во баллов – 60

БЛАНК ОТВЕТОВ 9-11

№ задания	Ответ	Кол-во баллов	№ задания	Ответ	Кол-во баллов
1	Б	1	11	АГ	0
2	А	0	12	А	1
3	В	0	13	Г	1
4	Б	1	14	А	1
5	А	0	15	Г	0
6	В	1	16	АБГ	0
7	В	0	17	В	1
8	А5 Б6 В1 Г4 Д3 Е2	1	18	Г	0
9	Лагунское	1	19	Б	1
10	В	1	20	Г	1
ИТОГО		12			

Тестовый тур

Практический тур

Задание 1.

Ответы:

- 1) 30 15
- 2) 1400
- 3) 1944

Максимальное число баллов за задание - 6

Задание 2.

Ответы:

- 1) 526
- 2) Беларусь
- 3) 3 – Беларусь  
7 – Латвия  
8 – Литва  
14 – Эстония

Максимальное число баллов за задание – 8

Задание 3.

За каждый правильный ответ по 2 балла

1.	Плато Путорана	0
2.	Баренцево	0
3.		0
4.	Красноярское море	0
5.	Саяны	0

Максимальное число баллов за задание – 10

Задание 4.

№	На каком материке обитают эти животные (0,5 балла)	Какое место занимает этот материк по площади среди материков (0,5 балла)	В каком полушарии находится это материк (по 0,5 за каждое)	В каких климатических поясах материк расположен (по 0,5 за каждый правильный ответ).	Всего баллов
1	Северная Америка	3	Северное		1,5
2	Австралия	2	Южное		0
3	Евразия	1	Северное Южное		1,5

Максимальное число баллов за задание – 16

Всероссийская олимпиада школьников 2024-25 учебный год  
Школьный этап. География, 9 класс,  
Время выполнения 90 мин. Максимальное кол-во баллов – 60

**БЛАНК ОТВЕТОВ**

9-20

№ задания	Ответ	Кол-во баллов	№ задания	Ответ	Кол-во баллов
1	Б	1	11	АГ	0
2	Г	1	12	А	1
3	Г	1	13	Г	1
4	Б	1	14	Б	0
5	Д	0	15	Б	1
6	А	0	16	А	0
7	Б	1	17	Б	0
8	А-5 Б-3 В-1 Г-4 Д-6 Е-2	0	18	Г	0
9	Байкал	0	19	Б	1
10	Г	0	20	А	0
<b>ИТОГО</b>					

Тестовый тур

**Практический тур**

**Задание 1.**

**Ответы:**

- Б
- 150г.
- 13582

Максимальное число баллов за задание - 6

**Задание 2.**

**Ответы:**

- 526
- 3
- Хабаровск –  
всех  
край

Максимальное число баллов за задание – 8

**Задание 3.**

За каждый правильный ответ по 2 балла

1.	АБАТАК	0
2.	Беренцево	0
3.	Карское	0
4.	Валено-Шушенский	2
5.	Енисейская-Крестная	15

Максимальное число баллов за задание – 10

35

Задание 4.

№	На каком материке обитают эти животные (0,5 балла)	Какое место занимает этот материк по площади среди материков (0,5 балла)	В каком полушарии находится этот материк (по 0,5 за каждое)	В каких климатических поясах материк расположен (по 0,5 за каждый правильный ответ).	Всего баллов
1	Австралия	6	южная	субарктический	0
2	Австралия	5	южная	тропический	0
3	Свразия 0,5	1 0,5	северная 0,5	тропический 0,5	2,5

Максимальное число баллов за задание – 16

Всероссийская олимпиада школьников 2024-2025 учебный год  
Школьный этап. География, 10-11 класс, задания  
Время выполнения 90 мин. Максимальное кол-во баллов – 60  
**Бланк ответов**  
**Тестовый тур**

Матрица ответов **10-3**

№ задания	Ответ	Кол-во баллов	№ задания	Ответ	Кол-во баллов
1	Б	0	11	А	1
2	Г	0	12	Испания	1
3	ГАБВ	0	13	Г	0
4	А)-4 Б)-3 В)-7 Г)-6 Е)-1	1	14	А-2 Б-3 Г-4	1
5	Г	1	15	А	0
6	Енисей	1	16	Эльбрус	1
7	А)-5 Б)-2 В)-4 Г)-1	0	17		0
8		0	18	Испания	0
9	В	0	19	Таи́га	1
10	Ключевая скала	1	20	52413	1
	Всего	10			

**Практический тур**

**Задание 1.**

Определите туристический объект, его название и страну, в которой он находится. Запишите название туристического объекта и страну его нахождения.

Максимальное количество баллов – 10 баллов.

Туристический объект	Название туристического объекта	Страна нахождения туристического объекта	Количество баллов
1.	Остров Пасхи		1
2	Кремль	Россия	1
3	В Эверест	Непал	0
4	Китайская стена	Китай	2
5			0

**Задание 2. Определите географический район по его характеристике.**

Максимальное количество баллов – 10.

№	Вопрос	Ответы	Кол-во баллов
1.	Назовите географический район		
2.	Какие два края входят в состав района?		
3.	Назовите город федерального значения		
4.	Назовите отрасли специализации района		
5.	Назовите крупные города района		

### Задание 3.

Рассчитайте ресурсообеспеченность стран. Используя данные из приведённой ниже таблицы, сравните ресурсообеспеченность стран пресной водой. Расположите страны в порядке уменьшения в них показателя ресурсообеспеченности пресной водой на душу населения, начиная со страны с наибольшим показателем.

**Максимальное количество баллов – 10 баллов.**

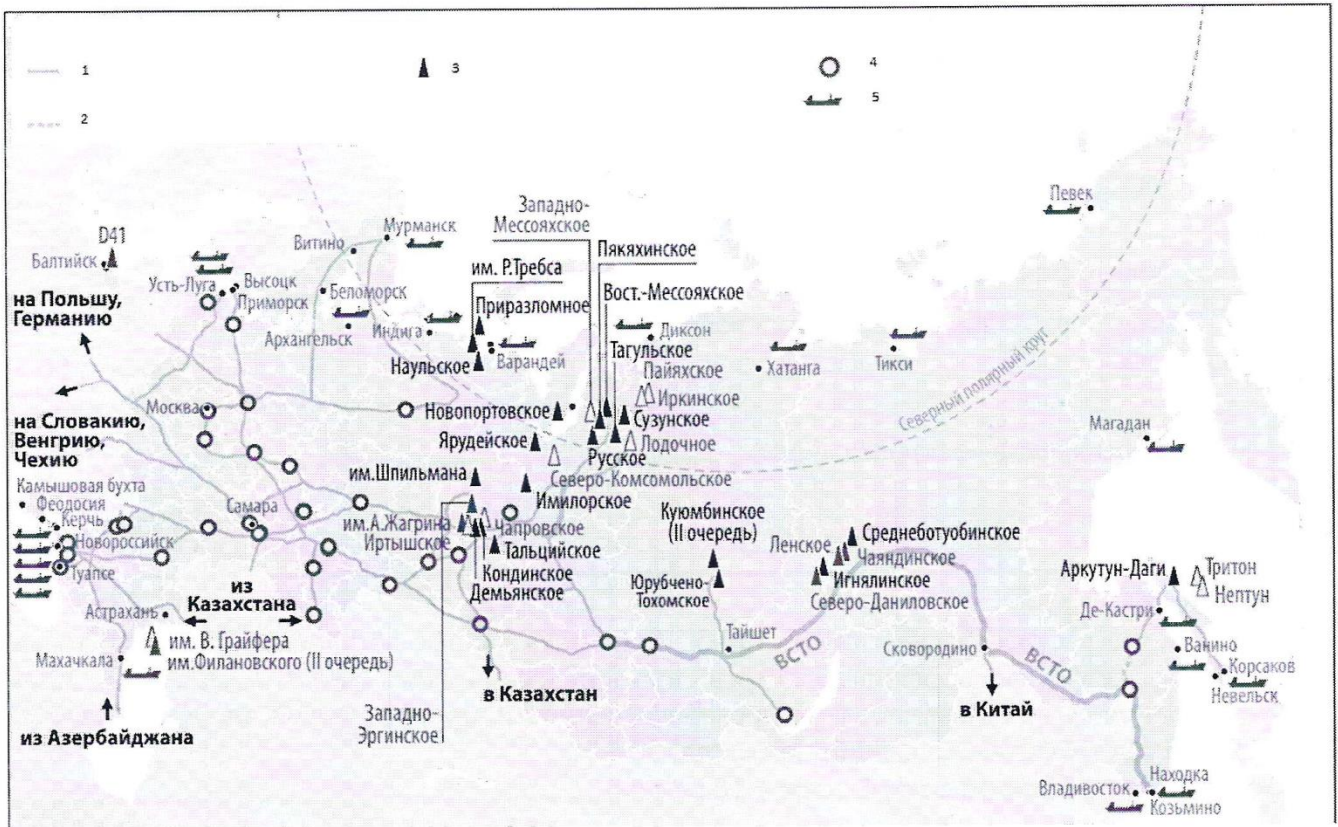
Расположите страны в порядке уменьшения в них показателя ресурсообеспеченности пресной водой на душу населения, начиная со страны с наибольшим показателем.

№	Страна	Ресурсообеспеченность
1.	Российская Федерация	
2.	Канада	
3.	Индия	
4.	Венесуэла	
5.	Мьянма	

### Задание 4.

Перед вами карта. Ответьте на вопросы, используя данную карту.

**Максимальное количество баллов – 10 баллов.**



1) Напишите название карты

2) Напишите название условных обозначений в легенде карты

Цифра	Название
1	реки
2	Северный полярный круг
3	руды
4	
5	Водный транспорт

3) Какими видами транспортировки можно перевозить данный продукт

---



---



---



---

4) Назовите географический район – лидер по добыче данного ресурса

---